

Школьный этап всероссийской олимпиады школьников по технологии
Вариант «Технология обработки ткани и декоративно-прикладное творчество»

Для учащихся 7 классов

Теоретические задания. Общее время выполнения работы-45 минут.

За полностью выполненное задание 1 балл;

Отметьте знаком «+» все правильные ответы

(один или несколько).

1. Волокна растительного и животного происхождения относятся к волокнам:

- а) искусственным;
- б) синтетическим;
- в) натуральным.

2. Природный цвет волокон шерсти бывает:

- а) белый;
- б) черный;
- в) оранжевый;
- г) коричневый;
- д) серый.

3. Профессия человека, являющегося специалистом в области создания стиля (имиджа) человека с помощью одежды, прически, макияжа называется:

- а) модельер
- б) дизайнер
- в) стилист

4. Торшер относится к светильникам

- а) общего освещения
- б) местного освещения
- в) декоративного освещения

5. Установите правильную последовательность основных компонентов проекта

- а) набор первоначальных идей
- б) определение потребностей и краткая формулировка задач
- в) планирование и изготовление изделия
- г) проработка одной или нескольких идей
- д) испытание и оценка проекта.

1..... 2..... 3..... 4..... 5.....

6. Лицевую сторону ткани можно определить:

- а) по блеску ткани;
- б) по толщине нитей;
- в) по яркости рисунка;
- г) по размеру нитей.

7. Отметьте буквой «И» истинное утверждение, буквой «Л» - ложное

1	Долевая нить в ткани проходит вдоль кромки	
2	Нить утка тонкая, гладкая	
3	У нити основы звук глухой при хлопке	
4	Нить утка сильно растягивается	

1..... 2..... 3..... 4.....

8. Укажите, в какой последовательности нужно проводить операции при подготовке машины к работе:

- а) подсунуть ткань под лапку;
- б) проколоть ткань иглой;
- в) привести машину в рабочее положение;
- г) заправить верхнюю нить;
- д) заправить нижнюю нить;
- е) опустить лапку.

9. Длинный желобок иглы при ее установке в иглодержатель должен быть повернут:

- а) влево;
- б) вправо;
- в) на работающего за машиной;
- г) в сторону челнока;
- д) со стороны заправки верхней нитки.

10. Обрыв нижней нити может произойти по причине:

- а) неправильного положения прижимной лапки;
- б) сильного натяжения нижней нити;
- в) неправильной заправки нижней нити;
- г) неправильной заправки верхней нити;
- д) использования нити плохого качества.

11. Юбки по конструкции бывают:

- а) прямые;
- б) клиньевые;
- в) диагональные;
- г) конические;
- д) расширенные;
- е) зауженные.

12. При расчете суммы вытачек на юбки учитываются мерки:

- а) Ст;
- б) Ди;
- в) Ст;
- г) Сб;
- д) Оп.

13. Прибавка – это:

- а) величина, необходимая при обработке изделия машинными швами, выраженная в сантиметрах и учитываемая при раскрое;
- б) величина, прибавляемая к размеру мерки на свободное облегание одежды.

14. Разутюжить – это:

- а) удалить замины на тканях и деталях изделия;
- б) отогнуть припуски шва на одну сторону и закрепить их в этом положении;
- в) уменьшить толщину шва, сгиба или края детали;
- г) разложить припуски шва на две стороны и закрепить их в этом положении.

15. Найти соотношение условного обозначения и названия мерок

1	Ст	А	Полуобхват бедер
2	Ди	Б	Полуобхват талии
3	Сб	В	Длина спины до талии
4	Дст	Г	Длина изделия

1.....2.....3.....4.....

16. Ширина ткани – это:

- а) расстояние, равное длине уточной нити;
- б) расстояние от кромки до кромки;
- в) расстояние, равное длине основной нити.

17. Укажите цифрами в левом столбце правильную последовательность технологии изготовления швейного изделия:

	А. Построение выкройки
	Б. Влажно-тепловая обработка
	В. Снятие мерок
	Г. Раскрой изделия
	Д. Пошив изделия






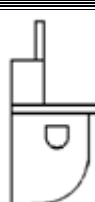

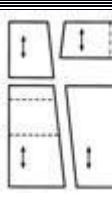
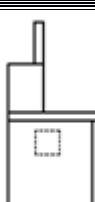

18. Примерку швейного изделия в процессе его пошива проводят:

- а) для правильной посадки изделия по фигуре;
- б) для вшивания молнии;
- в) для обработки нижнего среза.

19. Кляр – это:

- а) подсолнечное масло;
- б) жидкое тесто;
- в) вода и соль;
- г) молоко и соль.

20. Установите соответствие между рисунками фартуков и их выкройками.

1. 	2. 	3. 	4. 	5. 
				
А	Б	В	Г	Д

Ответ: 1-....., 2-....., 3-....., 4-....., 5-.....

21. Волокна растительного происхождения это:

- а) лен;
- б) шерсть;
- в) шелк;
- г) хлопок.

22. Как называется неосыпающийся край ткани?

- а) кромка;
- б) шов;
- в) срез.

23. Каковы особенности полотняного переплетения нитей в ткани:

- а) нить основы проходит под две нити утка;
- б) нить основы проходит под одну нить утка;
- в) нить основы проходит под несколькими нитями утка.

24. Вырезанная из бумаги деталь изделия - это:

- а) подрез
- б) выкройка
- в) шаблон
- г) конструкция

25. Поломка машинной иглы может произойти, если:

- а) игла имеет ржавый налет;
- б) игла погнута;
- в) игла вставлена в иглодержатель до упора;
- г) игла вставлена в иглодержатель не до упора;
- д) шпульный колпачок вставлен в челночное устройство не до упора.