

ВСЕРОССИЙСКАЯ ОЛИМПИАДА ШКОЛЬНИКОВ  
ПО ОБЖ. ШКОЛЬНЫЙ ЭТАП  
7–8 КЛАССЫ

*Уважаемый участник!*

При выполнении заданий Вам предстоит выполнить определённую работу, которую лучше организовать следующим образом:

- внимательно прочитайте задание;
- если Вы отвечаете на теоретический вопрос или решаете ситуационную задачу, обдумайте и сформулируйте конкретный ответ (ответ должен быть кратким, и его содержание следует вписать в отведённое поле; пишите чётко и разборчиво);
- при ответе на тестовые задания определите верный ответ и обведите кружком букву (буквы), соответствующую(-ие) выбранному Вами ответу.

За каждый правильный ответ Вы можете получить определённое членами жюри количество баллов, не выше указанной максимальной оценки.


Сумма набранных баллов за все решённые вопросы в двух форматах – итог Вашей работы. Максимальное количество баллов – 100.

Задания считаются выполненными, если Вы вовремя сдали их членам жюри.

*Желаем успеха!*

### Тестовые задания

**Определите один правильный ответ.**  
*За правильный ответ начисляется 2 балла.*


1. **Что означает следующий символ, используемый в международной кодовой таблице сигналов бедствия?**  
а) нужны медикаменты  
б) нужны оружие и боеприпасы  
в) нужны компас и карты  
г) нужны продовольствие и вода
- 
2. **На компасе Адрианова азимут на север равен**  
а) 90°  
б) 360°  
в) 180°  
г) 270°
  3. **При утечке газ пропан**  
а) поднимается вверх  
б) опускается вниз  
в) стелется по земле  
г) растворяется в воздухе
  4. **Как расшифровывается аббревиатура «МЧС»?**  
а) Министерство Российской Федерации по делам гражданской обороны, чрезвычайным ситуациям и ликвидации последствий стихийных бедствий  
б) Министерство России по делам гражданской обороны, чрезвычайным ситуациям и ликвидации последствий стихийных бедствий  
в) Министерство Российской Федерации по чрезвычайным ситуациям и ликвидации последствий стихийных бедствий  
г) Министерство России по делам гражданской обороны и ликвидации последствий стихийных бедствий
  5. **Для чего применяется дезинсекция?**  
а) для удаления радиоактивных веществ  
б) для удаления опасных и токсических химических веществ  
в) для уничтожения насекомых – переносчиков инфекционных заболеваний  
г) для уничтожения грызунов – переносчиков инфекционных заболеваний

**6. Скорость урагана достигает**

- а) 110 км/ч
- б) 101 км/ч
- в) 62 км/ч
- г) 120 км/ч

**7. Вязка какого узла изображена на рисунке?**

- а) бабьего
- б) прямого
- в) фламандского
- г) дубового



**8. Верны ли приведённые суждения?**

- А) Никотин является опасным растительным ядом.
  - Б) Никотин в малых дозах возбуждает, а в больших дозах тормозит деятельность клеток центральной нервной системы
- а) верно только А
  - б) верно только Б
  - в) верны оба суждения
  - г) оба суждения неверны

**9. Какой признак указывает на повреждение спинного мозга при травме позвоночника?**

- а) рана в области позвоночника
- б) кровоизлияние в области позвоночника
- в) резкая боль в области позвоночника
- г) отсутствие движения в конечностях ниже места повреждения

**10. Какое мероприятие первой помощи выполняют при отсутствии у пострадавшего сознания (при наличии пульса и дыхания)?**

- а) приподнимают ноги
- б) проводят компрессии на грудную клетку
- в) выполняют сердечно-лёгочную реанимацию
- г) переводят пострадавшего в устойчивое боковое положение

**Определите все правильные ответы.**

*За каждый правильный ответ начисляется 2 балла.*

11. **Что из перечисленного относится к личному снаряжению в туристическом походе?**
- а) рюкзак
  - б) палатка
  - в) тент
  - г) котелок
  - д) кружка
12. **Какое смысловое значение несёт красный цвет, используемый в знаках безопасности?**
- а) непосредственная опасность
  - б) аварийная или опасная ситуация
  - в) возможная опасность
  - г) предписание во избежание опасности
  - д) указание
13. **К относительно безопасным бытовым химикатам можно отнести**
- а) стиральные порошки
  - б) отбеливающие средства
  - в) мыло
  - г) растворители
  - д) препараты для борьбы с насекомыми
14. **По причинам возникновения чрезвычайные ситуации подразделяют на**
- а) экологические
  - б) технологические
  - в) социальные
  - г) дорожные
  - д) криминальные
15. **При падении в толпе в первую очередь необходимо:**
- а) как можно быстрее встать
  - б) постараться на четвереньках отползти в укрытие
  - в) защитить голову руками
  - г) защитить подручными предметами живот
  - д) поднять руку, привлекая внимание

16. **К видам наводнений относятся**
- а) ветровой нагон
  - б) зажор
  - в) сильный тягун
  - г) низкие уровни воды
  - д) осенний тягун
17. **Какие действия запрещается выполнять при ожоге конечности с повреждением целостности кожи?**
- а) отрывать прилипшую одежду
  - б) охлаждать, приложив холод через стерильную (чистую) ткань
  - в) охлаждать под струёй воды
  - г) накладывать нетугую повязку
  - д) давать питьё
18. **Какие календари профилактических прививок утверждены Министерством здравоохранения РФ?**
- а) календарь путешественников
  - б) национальный календарь
  - в) профессиональный календарь
  - г) по эпидемическим показаниям
  - д) детский календарь
19. **Какие признаки характерны для гипотермии средней степени тяжести (температура тела 30–34 °С)?**
- а) мышечное окоченение
  - б) озноб, мышечная дрожь
  - в) замедление сердечного ритма
  - г) учащение сердечного ритма
  - д) возбуждение, беспокойство
20. **Какие из перечисленных средств отсутствуют в аптечке первой помощи (автомобильной), но входят в состав аптечки для оказания первой помощи работникам?**
- а) жгут кровоостанавливающий
  - б) медицинские перчатки
  - в) устройство для проведения искусственного дыхания «рот–устройство–рот»
  - г) покрывало спасательное изотермическое
  - д) маска медицинская трёхслойная

**Таблица ответов на тестовые задания теоретического тура**






<b>Номер теста</b>	<b>Верный ответ</b>	<b>Номер теста</b>	<b>Верный ответ</b>
<b>1</b>		<b>11</b>	
<b>2</b>		<b>12</b>	
<b>3</b>		<b>13</b>	
<b>4</b>		<b>14</b>	
<b>5</b>		<b>15</b>	
<b>6</b>		<b>16</b>	
<b>7</b>		<b>17</b>	
<b>8</b>		<b>18</b>	
<b>9</b>		<b>19</b>	
<b>10</b>		<b>20</b>	

**Максимум за тестовые задания 60 баллов.**



### Задание 2

Укажите знаком «+» в крайнем левом или крайнем правом столбце, какие из ситуаций, изображённых на картинках, относятся к опасным, а какие к экстремальным?

Опасная ситуация	Изображение	Экстремальная ситуация
		
		
		
		
		

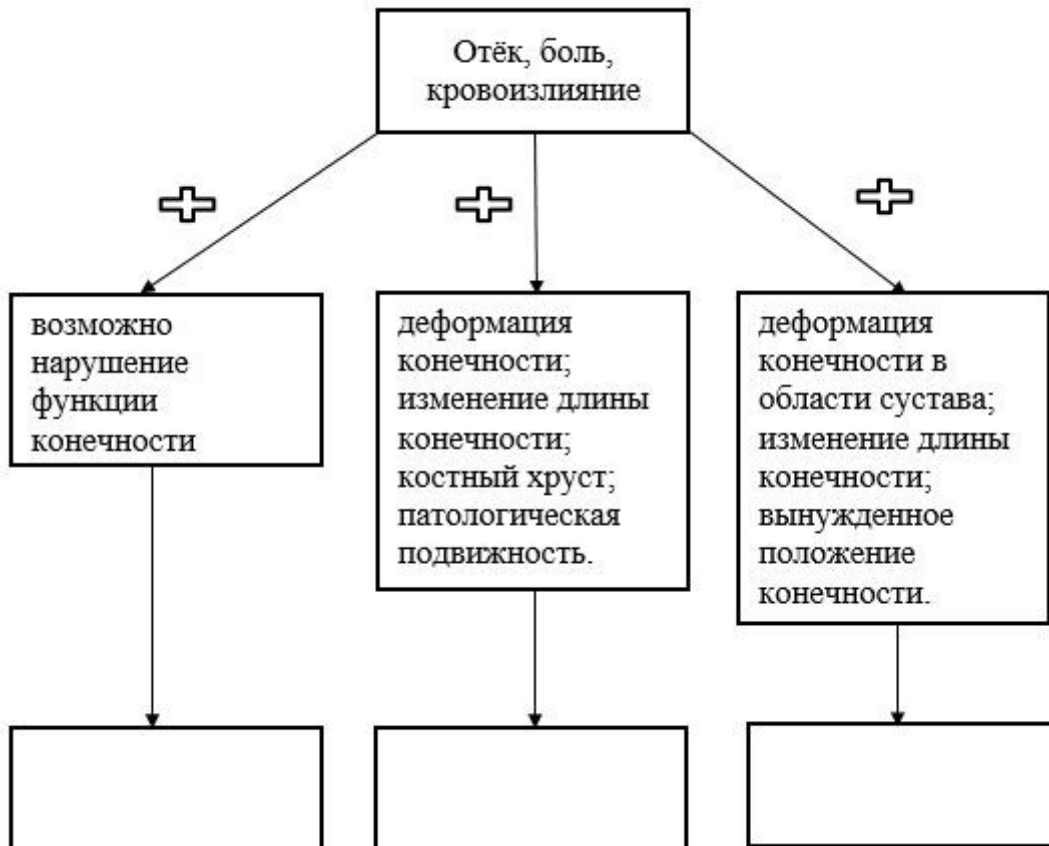




### Задание 4

Травмы конечностей встречаются достаточно часто. Общими их признаками являются отёк, боль, кровоизлияние.

А. Дополните схему. Укажите, какие повреждения можно заподозрить у пострадавшего, если к указанным признакам присоединяется ряд других признаков.



Б. При травмах конечностей применяется иммобилизация.

Укажите, какое количество суставов необходимо зафиксировать при переломе (вывихе)

1. предплечья и голени
2. плеча и бедра.

---

---

---

---

**Максимум за работу – 100 баллов.**